



# COLEGIO ARBORIZADORA BAJA

“Hacia Una Cultura Para El Desarrollo Sostenible”

PERIOD: FIRST

TEACHER: Lic. SANDRA MILENA ROMERO TORRES

NAME: \_\_\_\_\_

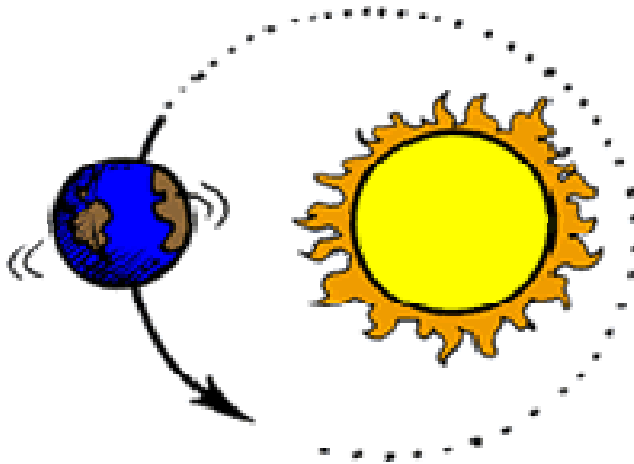
COURSE: CUARTO

1. Completa el texto utilizando las palabras claves

Palabras claves
Rotación
Días
Noches
horas

La tierra tiene un movimiento de \_\_\_\_\_ sobre sí misma. Tarde 24 \_\_\_\_\_ en completarlo. Este movimiento da lugar a la sucesión de los días y de las \_\_\_\_\_.

2. Observa el dibujo. Luego, colorea según las indicaciones.




. Retiñe con verde la flecha que indica el movimiento de traslación de la tierra.

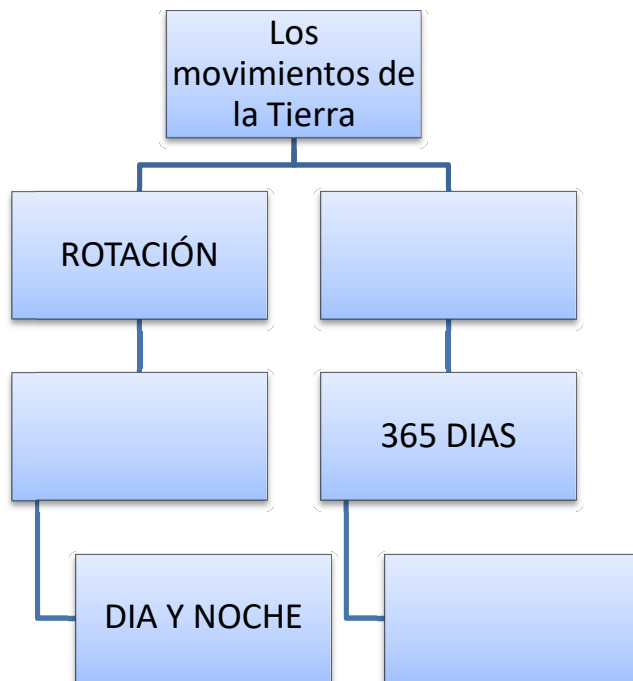
. Retiñe con rojo, la flecha que indica el movimiento de rotación de la tierra.

3. Resuelve el palabragrama. Cuando termines, descubrirás una palabra, en sentido vertical, con el nombre de tu planeta.

1. Galaxia en la que se encuentra el sistema solar
2. Movimiento de la Tierra sobre si misma
3. Fase en que la Luna comienza a hacerse visible.
4. Conjunto formado por los astros y el espacio.
5. Palabra que precede las fases de la Luna creciente y menguante.
6. Sistema planetario en el que se encuentra la Tierra.

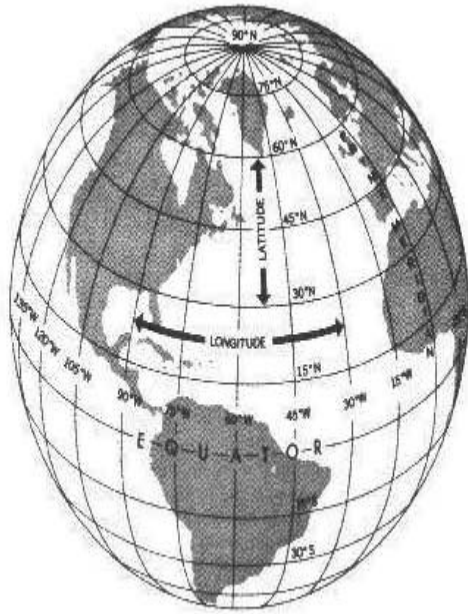


4. Completa el esquema de acuerdo con los movimientos de la tierra.



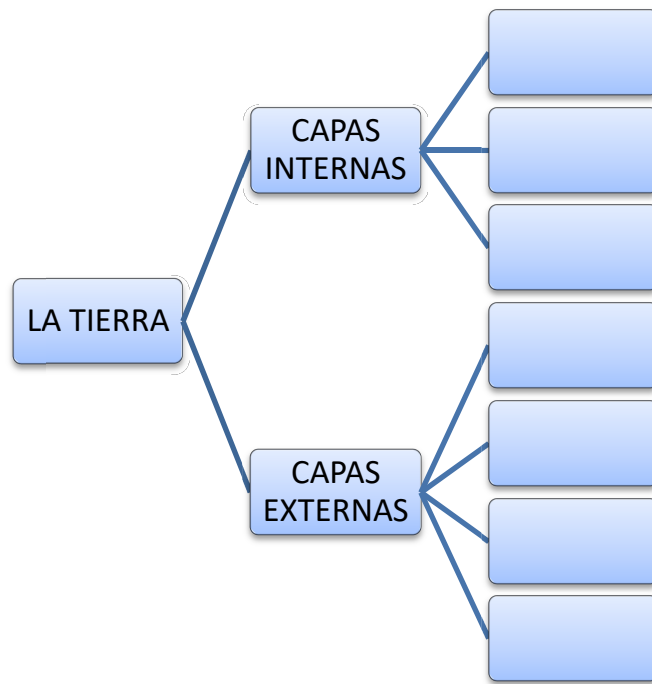


7. Trabaja con el globo terráqueo

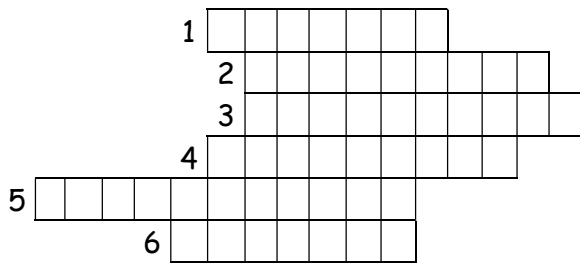


a. Colorea de verde los paralelos
b. Colorea de rojo los meridianos
c. Escribe donde corresponda <ul style="list-style-type: none"> <li>- Ecuador</li> <li>- Meridiano 0°</li> <li>- Círculo polar ártico</li> <li>- Círculo polar antártico</li> <li>- Trópico de cáncer</li> <li>- Trópico de capricornio</li> </ul>

8. Completa el esquema



9. Completa el crucigrama



1. Así se denomina la distancia entre un lugar de la tierra y la luna del ecuador.
2 Galaxia a la que pertenece la tierra.
1. Palabra que significa "media esfera"
2. Línea que va de polo a polo.
3. Los geógrafos crearon una red de líneas que nos sirven de orientación en la tierra. Estas líneas no se ven es decir son...
4. Todos los puntos de esta línea imaginaria, quedan a igual distancia de los polos.

10. Colorea las cuatro fases de la luna. Luego, escribe a qué fase corresponde cada dibujo.



11. Escribe F, si es falso o V, si es verdadero.

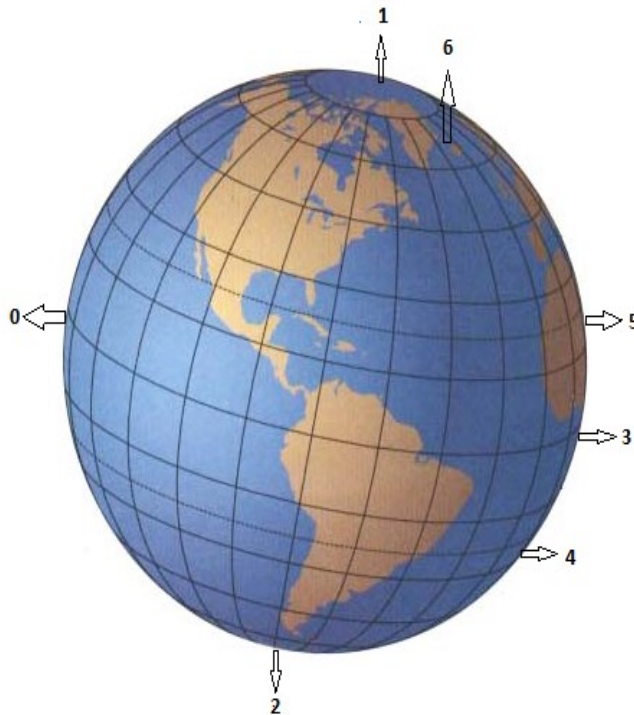
Los meridianos son líneas que van de polo a polo pasando por el ecuador.

Los paralelos más importantes son los correspondientes al trópico de Cáncer y al trópico de Capricornio.

Las coordenadas nos sirven para ubicar los puntos cardinales.

Los movimientos que se producen en el interior de la tierra influyen en el movimiento de rotación.

12. Escribe cada número en la expresión que le corresponda.



	Ecuador
	Trópico de cáncer
	Trópico de capricornio
	Círculo polar antártico
	Círculo polar ártico
	Meridiano de Greenwich